


2023/2024 EĞİTİM ÖĞRETİM YILI
..... ORTAOKULU 6/... SINIFI
FEN BİLİMLERİ DERSİ 1.DÖNEM 1.SINAV SORULARI
MEB- SENARYO 2'YE UYGUNDUR

ADI SOYADI :
NO :

Not

Aşağıda 6 öğrenci halat çekme oyunu oynuyorlar. Uyguladıkları kuvvetler yanlarında verilmiştir. Buna göre; bileşke kuvvetin yönü ve büyüklüğünü yazınız.(20 puan)

1.



2. Güneş tutulması ve ay tutulmasını çizerek gösteriniz. (20 puan)

GÜNEŞ
TUTULMASI

AY
TUTULMASI


3. 1-Sabit süratle giden araba
2-Balkondan düşen saksı
3-Masada duran kitap
4-Saatin akrep ve yelkovanının hareketi
Verilen olayları dengelenmiş dengelenmemiş olarak gruplayınız.(20 puan)

Dengelenmiş :.....

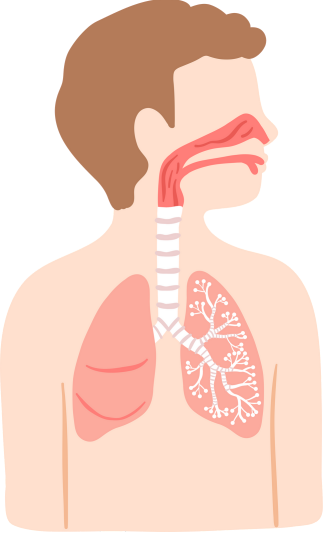
Dengelenmemiş :.....

4. Kerime kořarken elde edilen deęerler ařaęıdaki tabloda verilmiřtir. Tablodaki deęerleri kullanarak Kerime'nin sũratini bulunuz. Yandaki tabloya Yol-Zaman ve sũrat-zaman grafięini iziniz.(20 puan)

Alınan yol(m)	0	50	100	150	200
Geen zaman(sn)	0	10	20	30	40



5.



Solunum sistemi organlarının isimlerini grsel zerinde bulup gsteriniz. Kısaca birer cmle halinde grevini de yazınız.(20 puan)