


ADI SOYADI :
NO :

Not

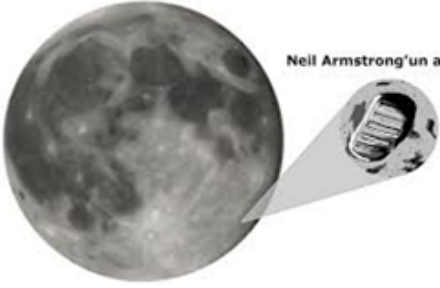
1.



Güneş'in özelliklerinden 1 tanesini yazınız? (15 puan)

ŞEKLİ KÜREYE BENZER

2.



"Ay yüzeyine ilk ayak basan insan Neil Armstrong'un ayak izi Ay yüzeyine bir meteor düşmedikçe sonsuza kadar orada kalacaktır." Bu durum Ay'ın hangi özelliği ile ilgilidir? Kutucuk içine kısaca yazınız. (10 puan)

**AY'IN ATMOSFERİNİN OLMAMASI-
AYDA HAVA OLAYLARI GÖRÜLMEMESİ**

3.

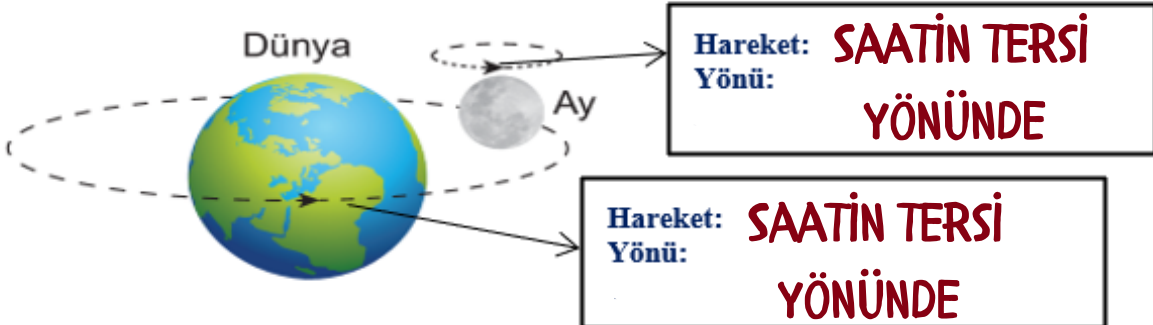
Ay, yüzeyinde insanların yaşamasını zorlaştıran etkenlerden 1 tanesini yazınız(12 puan)

OKSİJEN OLMAMASI


VB

4.

Ay'ın Dünya etrafında dolanımını ve kendi etrafında dönmesini dolanma ve dönme yönlerine de dikkat ederek çizerek bir model üzerinde yazınız. (10 puan)



5. Aşağıdaki kutucuklara Ay'ın yeniay ve dolunay evrelerini çiziniz.(12 puan).



6. Güneş, Dünya ve Ay'ın kendi eksenini etrafında dönüş yönlerini yazınız. (15 puan)

Güneş: **SAATİN TERSİ YÖNÜNDE**

Dünya: **SAATİN TERSİ YÖNÜNDE**

Ay: **SAATİN TERSİ YÖNÜNDE**

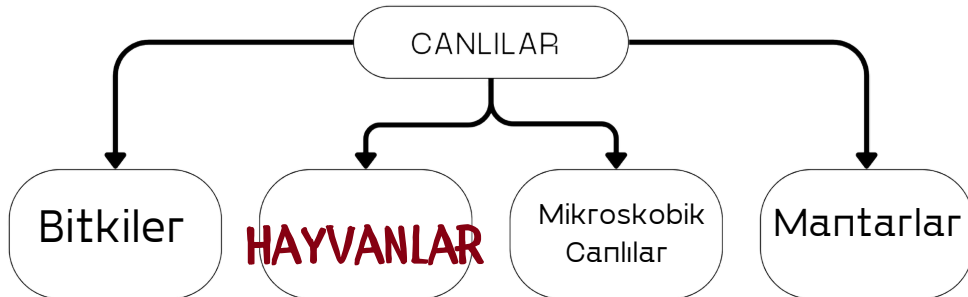
7. Ay'ın kendi eksenini etrafında dönme süresi ile dünya etrafında dolanma süresinin aynı olmasının sonucu nedir?(10 puan)

AY'IN HEP AYNI YÜZÜNÜ GÖRÜRÜZ.

8. Bilim insanları canlıları benzerlik ve farklılıklarına göre dört grup altında toplamışlardır.

Buna göre aşağıdaki kavram haritasına verilmeyen grubu yazınız.

(16 puan)



Başarılar...

Fen Bilimleri Zümresi